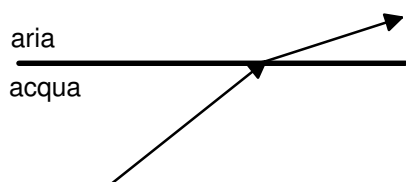
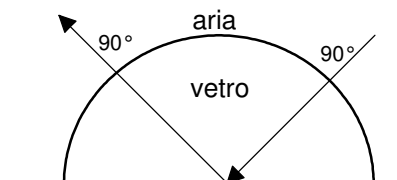


## Quesito 21

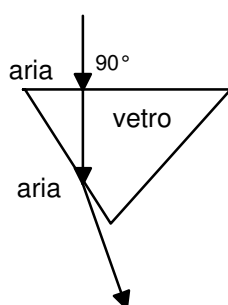
In quale delle seguenti figure il disegno che mostra il cammino del raggio luminoso NON è corretto?



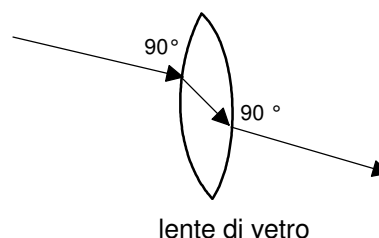
A.



B.



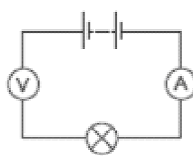
C.



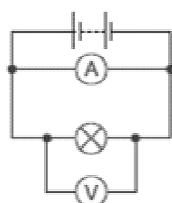
D.

## Quesito 22

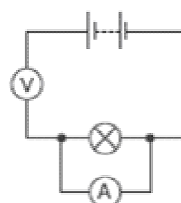
Quale dei seguenti circuiti può essere usato per misurare la resistenza della lampadina?



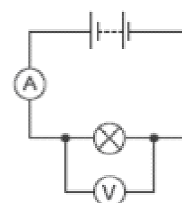
A.



B.



C.



D.

## Quesito 23

In un esperimento per determinare il calore specifico di un metallo si trova che sono necessari 5200 J per aumentare di 20 K un blocco di quel metallo con massa di 2 kg.

Qual è, in base a questi risultati, il calore specifico cercato?

A.	130 J/(kg K)	B.	520 J/(kg K)	C.	52000 J/(kg K)	D.	104000 J/(kg K)
----	--------------	----	--------------	----	----------------	----	-----------------